


1.- Utiliza tu transportador para medir los ángulos y escribe cómo se llaman según su medida



Mide _____

Se llama _____



Mide _____

Se llama _____



Mide _____

Se llama _____



Mide _____

Se llama _____



Mide _____

Se llama _____



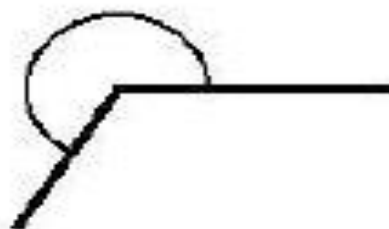
Mide _____

Se llama _____



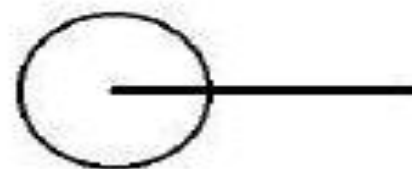
Mide _____

Se llama _____



Mide _____

Se llama _____



Mide _____

Se llama _____